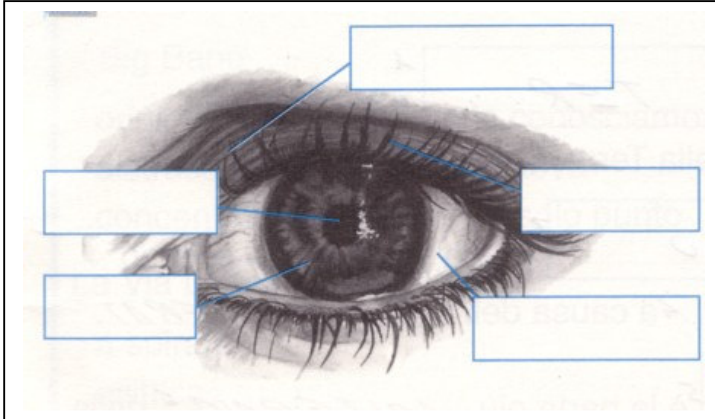


Data:  
Nome:

## VERIFICA DI SCIENZE

### **GLI ORGANI DI SENSO**

1) Scrivi il nome delle parti indicate nel disegno.



2) **Completa:**

Dietro la pupilla troviamo

.....  
che, come una lente, manda  
l'immagine alla

.....  
Qui arriva più piccola e capovolta e  
attraverso

il.....  
arriva al cervello che la raddrizzerà.

3) Collega le due parti delle frasi unendo i rettangoli giusti.

La luce entra nei tuoi occhi attraverso la ...

retina

Le immagini che entrano nell'occhio si  
imprimono su uno strato sensibile alla luce che  
si chiama.....

nervo ottico

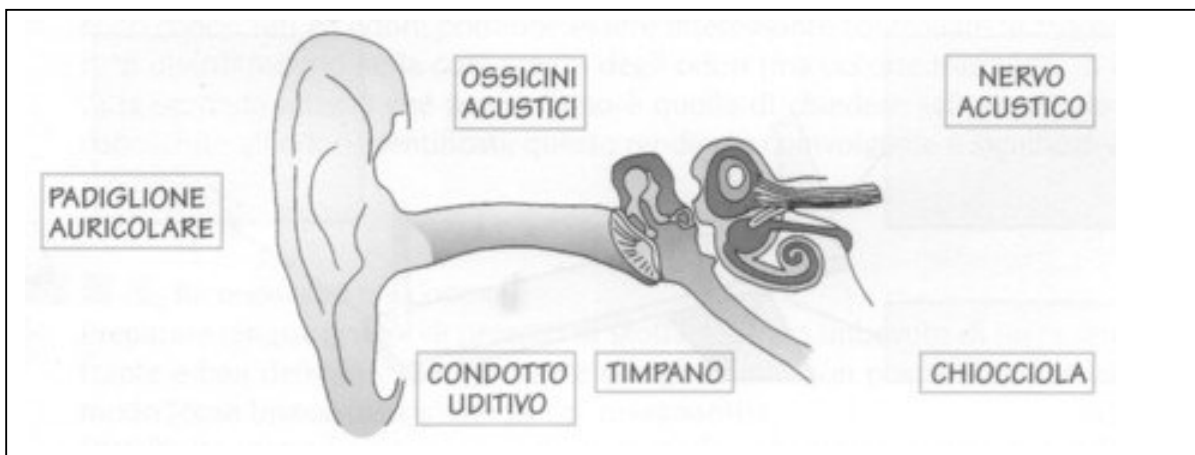
Le immagini vengono portate al cervello dal ...

pupilla

4) Colora i termini che si riferiscono all'**udito**.

CHIOCCIOLA, CRISTALLINO, TIMPANO, NERVO ACUSTICO, DERMA, PAPILLE GUSTATIVE,  
PADIGLIONE AURICOLARE, NERVO OLFATTIVO, OSSICINI ACUSTICI.

5) Collega i nomi con le parti dell'orecchio.



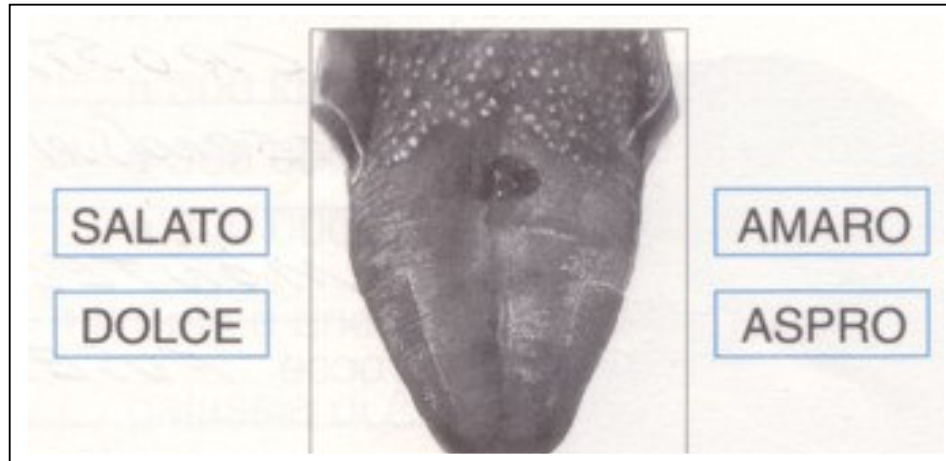
6) Qual è l'organo che è la sede del **gusto**?

.....

7) Quali sono i gusti che si possono distinguere?

.....

8) Dove vengono percepiti questi sapori? Collegali con il disegno.



9) Completa.

L'organo dell'**olfatto** è il ..... All'interno c'è una ..... dove arrivano le terminazioni del ..... Esso deve trasmettere al cervello la sensazione degli odori. La membrana del naso è tenuta sempre umida dal ....., un liquido che viene prodotto da speciali ghiandole.

10) L'organo del **tatto** è la .....

Leggi le informazioni e scrivi vero (V) o falso (F).

11) La pelle è:

impermeabile

sensibile

rigida

elastica

12) Attraverso la pelle arrivano le sensazioni di:

forma

calore

dolore

freddo

13) La pelle traspira per mezzo di piccolissimi fori

14) Le lunghe esposizioni al sole fanno bene

15) Sulla pelle si accumulano sostanze utili all'organismo

16) È necessario mantenere pulita la pelle

17) Le ferite superficiali non vanno disinfettate